

☆けいさんを しましょう。

①  $3 + 5 =$

②  $1 + 0 =$

③  $6 + 4 =$

④  $10 + 4 =$

⑤  $16 + 2 =$

⑥  $6 - 3 =$

⑦  $10 - 5 =$

⑧  $17 - 7 =$

⑨  $15 - 2 =$

⑩  $13 - 6 =$

☆□に あてはまるかずを かきましょう。

⑪  $0 \text{ --- } \square \text{ --- } 2 \text{ --- } 3$

⑫  $\square \text{ --- } 6 \text{ --- } 7 \text{ --- } 8$

⑬  $9 \text{ --- } \square \text{ --- } 11 \text{ --- } \square$

☆けいさんを しましょう。

⑭  $8 + 2 + 6 =$

⑮  $10 - 5 - 3 =$

⑯  $7 - 5 + 6 =$



☆けいさんを しましょう。

①  $10 + 5 =$

②  $15 + 4 =$

③  $16 + 3 =$

④  $14 + 4 =$

⑤  $13 + 7 =$

⑥  $10 - 3 =$

⑦  $17 - 5 =$

⑧  $13 - 4 =$

⑨  $19 - 10 =$

⑩  $20 - 10 =$

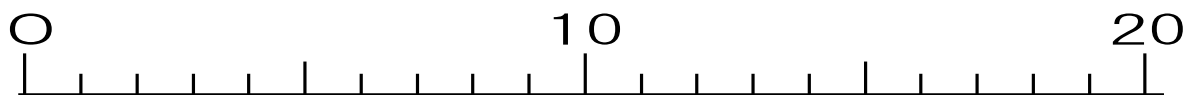
☆□に あてはまるかずを かきましょう。

⑪  $14 - \square - 15 - \square - 16 - \square - 18 - \square$

⑫  $10 - \square - 14 - 16 - \square - 20$

⑬  $0 - \square - 10 - 15 - \square - 25$

☆かずの せんを みて、( )はいる ことばを かきましょう。



⑭ 9よりも 5 おおきいかずは ( )です。

⑮ 17よりも 10 すくないかずは ( )です。

☆なんじですか。なんじはんですか。

①



( じ )

②



( じ )

③



( じ )

☆なんじ なんぷんですか。

④



( じ ぶん )

⑤



( じ ぶん )

⑥



( じ ぶん )

☆えと とけいが あうように てんと てんを むすびましょう。

⑦あさおきる



ア



⑧とうこうする



イ



⑨きゅうしょくをたべる



ウ



⑩ねる



エ




☆えんぴつのながさをくらべます。

①いちばんながいえんぴつは  
どれですか。( )


②いちばんみじかいえんぴつは  
どれですか。( )

③にばんめにながいえんぴつは  
どれですか。( )



☆ほんのたてのながさとよこのながさをくらべます。

④ながいのは( )です。  
りゆうは、たてがクレヨン( )ぶんで、  
よこがクレヨン( )ぶんだからです。



☆どちらがながいでしょうか。( )に○をつけましょう。

⑤ ( ) 

⑥ ( ) 

( )  ( ) 

☆いちばんよいとおもうかんがえに○をつけましょう。

⑦つくえのたてとよこのながさをしらべます。

( ) みんなのけしごむをあつめてならべてくらべる。

( ) じぶんのてのゆびをひろげてはかる。

( ) おはじきをならべる。

( ) おなじながさのかぞえぼうをならべる。




☆どちらの びんに おおく はいって いますか。

- ① ①の びんに ②の みずを いたら  
あふれました。



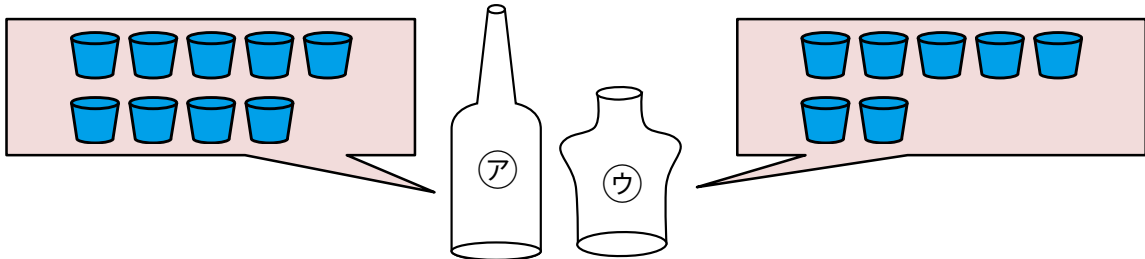
みずが おおく はいる びんは ( ) です。

- ② ③と ④を おなじ おおきさの  
いれものに いました。



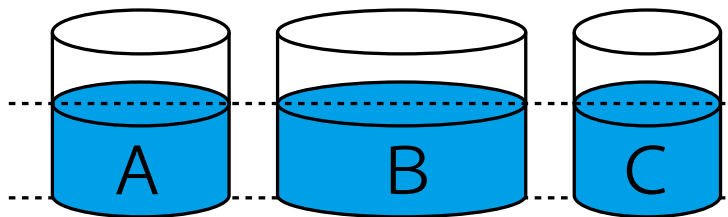
みずが おおく はいる びんは ( ) です。

- ③ ちいさい コップに なんばい はいるか  
で くらべました。



みずが おおく はいる びんは ( ) です。

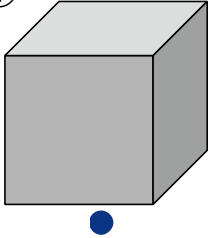
☆どれが いちばん みずが はいって いるのでしょうか。



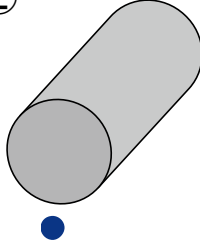
みずが いちばん おおく っているのは ( ) です。

☆つみきの かたちと にているものを せんで むすびましょう。


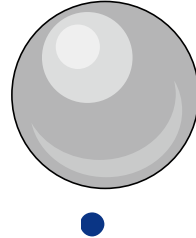
①



②



③




☆つみきを つかって かたちを かきました。  
どの つみきを つかったのか ( )に きごうを かきましょう。

④




( )

⑤




( )

⑥

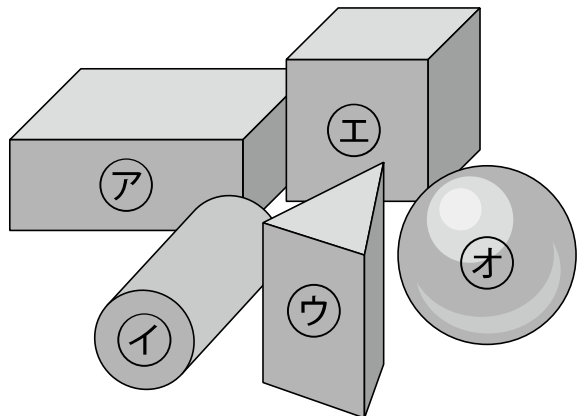


( )

⑦



( )




☆いくつ ありますか。

①どんぐり ( )こ



②あめ ( )こ



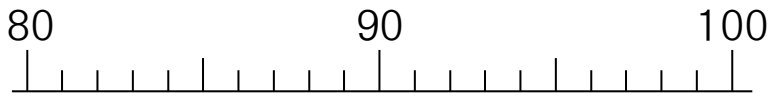
☆( )に かずを かきましょう。

③10が 6こと 1が 9こで ( )です。

④10が 7こで ( )です。

⑤47は、10が( )こと、1が( )こです。

☆どんな かずですか。かずの せんで たしかめながら こたえましょう。



⑥80より 3 おおきい かず ( )

⑦90より 4 ちいさい かず ( )

⑧88より 4 おおきい かず ( )

⑨100より 2 ちいさい かず ( )



☆どちらが おおきいでしょう。おおきい ほうに ○を つけましょう。

⑩ 

76
----

67
----

  
( ) ( )

⑪ 

42
----

48
----

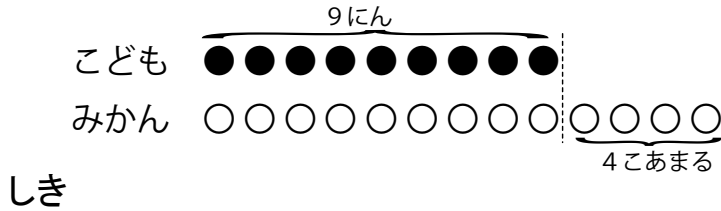
  
( ) ( )

☆つぎの もんだいに こたえましょう。

- ①ともこさんが ジェットコースターに のっています。  
 ともこさんは、まえから 6ばんめです。うしろに5にん のっています。  
 みんなで なんにん のって いますか。  
 しき


こたえ( )

- ②9にんの こどもに みかんを くばったら 4こ のこりました。  
 みかんは ぜんぶで なんこ ありますか。




こたえ( )

- ③すずめが 11わ います。はとは、すずめより 3わ すくないそうです。  
 はとは、なんわ いますか。



こたえ( )

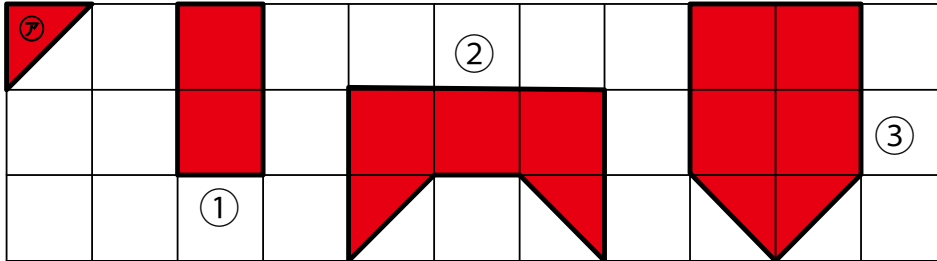
- ④ひとりに 1ぽんずつ えんぴつをくばります。12にんに くばろうと したら  
 7にんめで なくなって しまいました。もらえない ひと は なんにん ですか。



こたえ( )

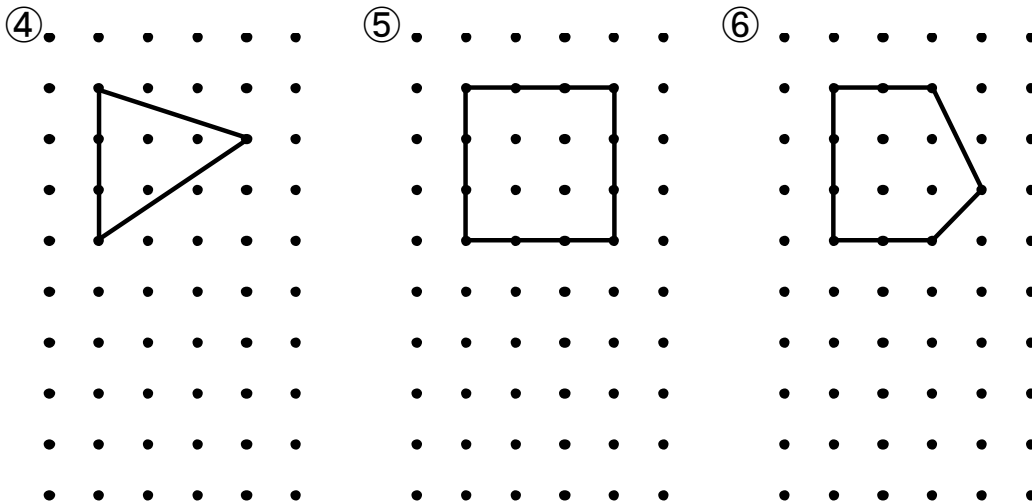


☆①から ③の かたちをつくります。アの いろいたは なんまい いりますか。



①( )まい      ②( )まい      ③( )まい

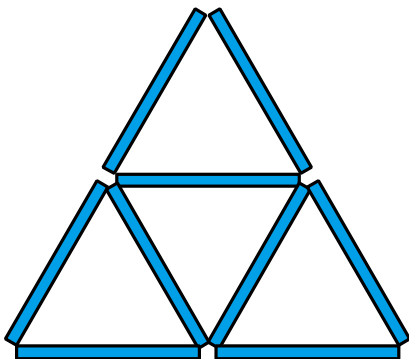
☆おなじ かたちをかきましょう。



☆かぞえぼうをつかって したの かたちをつくりました。

⑦この かたちには、むきや おおきさの ちがう さんかくが いろいろ かくれています。

さんかくは、ぜんぶで なんこ ありますか。 ( )こ



☆けいさんを しましょう。

- ①  $2 + 4 =$       ②  $10 + 8 =$       ③  $3 + 9 =$   
 ④  $8 + 5 =$       ⑤  $7 + 7 =$       ⑥  $13 + 7 =$   
 ⑦  $7 - 4 =$       ⑧  $10 - 6 =$       ⑨  $13 - 5 =$   
 ⑩  $15 - 7 =$       ⑪  $12 - 3 =$       ⑫  $20 - 9 =$

☆こたえが 15に なる しきに ○を ならない しきに ×を つけましょう。

- ⑬  $5 + 9$       ⑭  $7 + 8$       ⑮  $11 + 4$       ⑯  $6 + 9$   
 (      )      (      )      (      )      (      )

☆こたえが 7に なる しきに ○を ならない しきに ×を つけましょう。

- ⑰  $11 - 4$       ⑱  $15 - 8$       ⑲  $9 - 3$       ⑳  $14 - 7$   
 (      )      (      )      (      )      (      )

☆もんだいに こたえましょう。

⑲あかと あおの おはじきが、あわせて14こ あります。あかの おはじきの かずを かぞえたら 8でした。あおの おはじきの かずは なんこですか。

しき

こたえ(      )

⑳ほんが 7さつ あります。6さつ もって きました。ぜんぶで ほんは なん さつに なりましたか。

しき

こたえ(      )